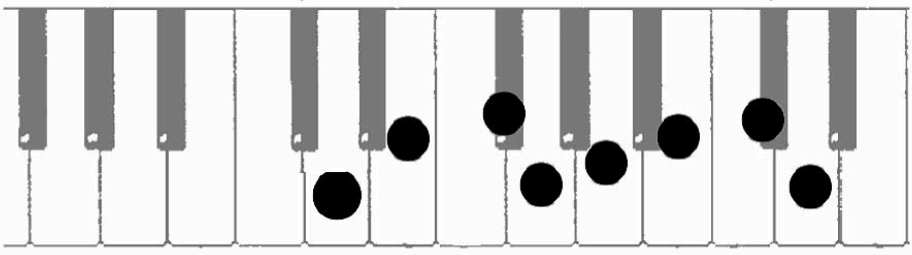


06 : die Durtonleiter transponieren


2 | Probiere selbst: drei Übungsbeispiele

1. Die Durtonleiter über dem Ton *d* herausfinden

D-Dur:



A piano keyboard diagram showing the D major scale. The notes D, E, F#, G, A, B, C#, and D are marked with black dots on the keys. The white keys are labeled with their respective note names: C, D, E, F, G, A, B, C.

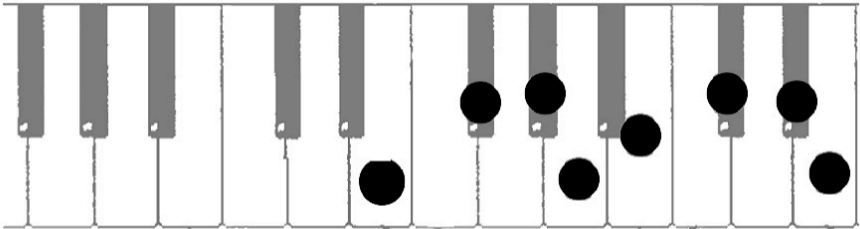


A musical staff in treble clef showing the D major scale: D4, E4, F#4, G4, A4, B4, C#5, D5.


 44 38

2. Die Durtonleiter über dem Ton *e* herausfinden

E-Dur:



A piano keyboard diagram showing the E major scale. The notes E, F#, G, A, B, C#, D#, and E are marked with black dots on the keys. The white keys are labeled with their respective note names: C, D, E, F, G, A, B, C.



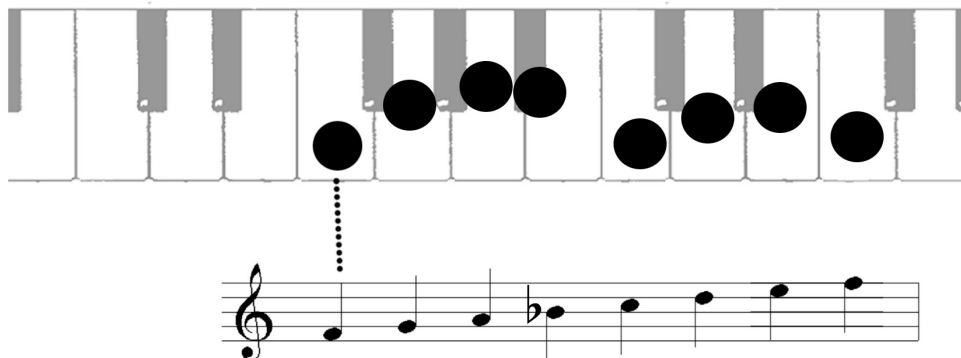
A musical staff in treble clef showing the E major scale: E4, F#4, G4, A4, B4, C#5, D#5, E5.

 45 39

3. Die Durtonleiter über dem Ton *f* herausfinden

 46

 40



The diagram shows a piano keyboard with black circles on the keys F, G, A, B, C, D, E, and F. A dotted line connects the first F to a musical staff below. The staff shows a scale starting on F: F, G, A, B, C, D, E, F.

Aufgabe: Finde die folgenden Dur- und Molldreiklänge


 41




A-Dur




A-Moll





F-Dur




F-Moll




G-Dur



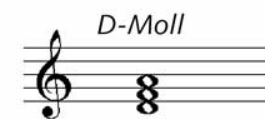
G-Moll




D-Dur




D-Moll



7 | Abschlussaufgaben zu Lektion 06

Zähle die folgenden Intervalle über dem Ton **d** aus und benenne sie!


 42



kl3 gr3 gr7 kl7 4 gr6 kl6

Zähle die folgenden Intervalle über dem Ton **e** aus und benenne sie!

 43



kl3 gr3 b5 gr6 kl6 gr7 kl7


TIPP ZUR LÖSUNG: Die Durtonleitern von **d** und **e** hast du schon selbst abgeleitet (→ Seite 51). Die Durtonleiter liefert dir jeweils die großen bzw. die reinen Intervalle; so kannst du leicht vergleichen und die Lösungen ermitteln.

Überprüfe die folgenden Durtonleitern. Was ist falsch?


 44

1. Überprüfe die folgenden Durtonleitern. Was ist falsch?


a) F-Dur???



b) A-Dur???



c) G-Dur???



Leiter a) hat kl7 statt gr7.

Leiter b) hat kl2 statt gr2 und kl7 statt gr7

Leiter c) hat kl3 statt gr3

Die Passwortaufgabe zu Lektion 6

Welches Intervall ist hier in Notendarstellung zu sehen?



große Sexte

kleine Septime

große Sep-

time

I

R

L